

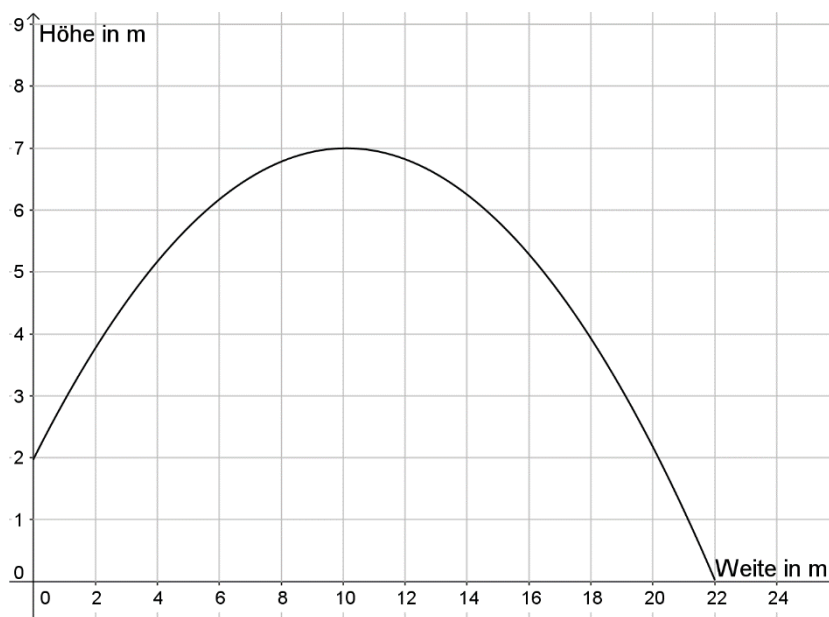


inhaltsbezogene mathematische Kompetenzen		allgemeine mathematische Kompetenzen	
	- Eigenschaften quadratischer Funktionen im Sachzusammenhang beschreiben		- mathematischen Modellen Anwendungssituationen zuordnen

### Aufgabe:

Der abgebildete Graph beschreibt die Flugbahn einer Kugel beim Kugelstoßen.



Interpretieren Sie die Koordinaten der Schnittpunkte des Graphen mit den Koordinatenachsen sowie die Koordinaten des Hochpunkts im Sachzusammenhang.